


Name: \_\_\_\_\_

Datum: \_\_\_\_\_



## Rechteck und Quadrat

Beschrifte die Seiten, Längen und Breiten. Achte auf die Einheit (mm, cm)!




Berechne den Umfang der Figuren:


$$s = 45 \text{ mm}$$





$$l = 55 \text{ mm}$$



$$b = 25 \text{ mm}$$



$$s = 37 \text{ mm}$$



Zeichne die Figuren mit Bleistift und Geodreieck.  
Beschrifte die Seiten, Längen und Breiten.

①  $s = 3 \text{ cm}$

②  $l = 60 \text{ mm}$   
 $b = 50 \text{ mm}$

③  $s = 6,2 \text{ cm}$

④  $l = 25 \text{ mm}$   
 $b = 12 \text{ mm}$